

# Vi mäter sträckor

Använd en linjal.



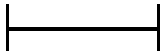
Sträckan är \_\_\_\_\_ cm.



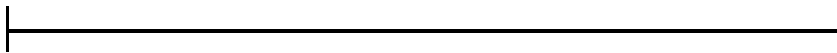
Sträckan är \_\_\_\_\_ cm.



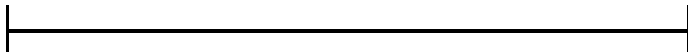
Sträckan är \_\_\_\_\_ cm.



Sträckan är \_\_\_\_\_ cm.



Sträckan är \_\_\_\_\_ cm.



Sträckan är \_\_\_\_\_ cm.



Sträckan är \_\_\_\_\_ cm.

Om vi lägger ihop alla sträckor blir det \_\_\_\_\_ cm.

Rita en sträcka som är 15 cm lång här på pappret.